



ÔN TẬP PHÉP CỘNG, PHÉP TRỪ TRONG PHẠM VI 1000

MỤC TIÊU BÀI HỌC

- 1 Ôn tập kỹ năng tính toán: tính nhẩm với số tròn chục, số tròn trăm; đặt tính.
- 2 Xác định tình huống thực hiện phép tính cộng. Lập mô hình minh họa cho tình huống đó.
- 3 Trình bày được lời giải cho các bài toán có lời văn.



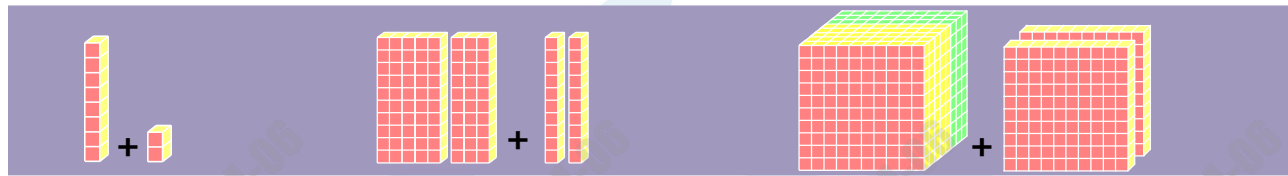


HOẠT ĐỘNG

I. Phép cộng với số tròn chục, số tròn trăm.



$1 + 1 = 2$



$8 + 2 = 10$

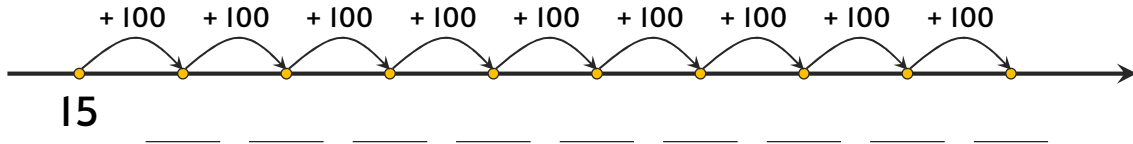
Đếm cách đều 10 đơn vị bắt đầu từ 3.

Đếm cách đều 20 đơn vị bắt đầu từ 7.

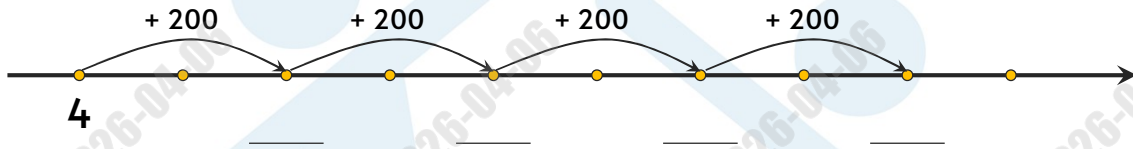
0	1	2	3	4	5	6	7	8	9	_____
10	11	12	13	14	15	16	17	18	19	_____
20	21	22	23	24	25	26	27	28	29	_____
30	31	32	33	34	35	36	37	38	39	_____
40	41	42	43	44	45	46	47	48	49	_____
50	51	52	53	54	55	56	57	58	59	_____
60	61	62	63	64	65	66	67	68	69	_____
70	71	72	73	74	75	76	77	78	79	_____
80	81	82	83	84	85	86	87	88	89	_____
90	91	92	93	94	95	96	97	98	99	_____



Đếm cách đều 100 đơn vị bắt đầu từ 15.



Đếm cách đều 200 đơn vị bắt đầu từ 4.



HOẠT ĐỘNG

2. Phép cộng số trong phạm vi 1000 có nhớ 1 lần.

$$217 + 158 =$$

Trăm	Chục	Đơn vị



$$247 + 162 =$$

Trăm	Chục	Đơn vị

HOẠT ĐỘNG

Khi nào trong một phép tính cộng có số hạng bằng tổng ?

3. Cộng với 0.

$4 + 0 =$ _____

$0 + 4 =$ _____

$123 + 0 =$ _____

$0 + 123 =$ _____



LUYỆN TẬP

Bài 1. Tính nhẩm.

$50 + 40 = \underline{\quad}$

$12 + 40 = \underline{\quad}$

$100 + 70 = \underline{\quad}$

$36 + 50 = \underline{\quad}$

$300 + 600 = \underline{\quad}$

$40 + 314 = \underline{\quad}$

$70 + 80 = \underline{\quad}$

$252 + 300 = \underline{\quad}$

$800 + 200 = \underline{\quad}$

$400 + 155 = \underline{\quad}$

Bài 2. Đặt tính rồi tính.

$52 + 13$

$128 + 66$

$202 +$

H O C M A I

$25 + 75$

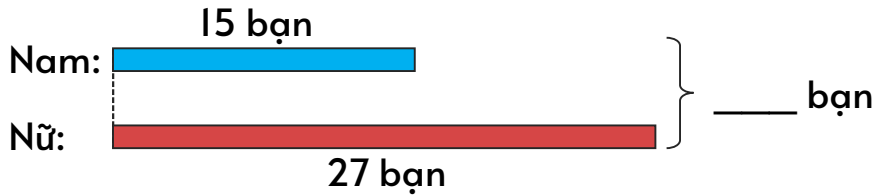
$324 + 123$

$194 + 574$

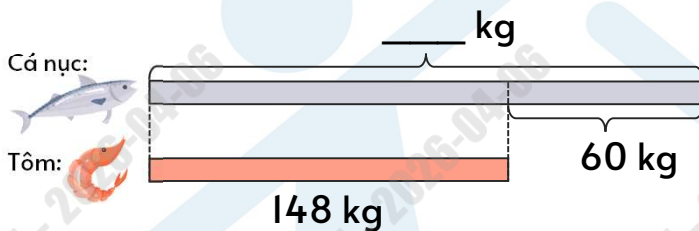


Bài 3. Viết số thích hợp vào chỗ trống trong sơ đồ sau:

Lớp 3C



Thuyền đánh cá



Bài 4. Cô Hồng làm việc tại một trạm cứu hộ vật nuôi. Cô cho biết công việc của mình chủ yếu là cứu hộ chó, mèo và tìm chủ nuôi cho chúng. Năm vừa qua, cô đã cứu hộ thành công cho 76 con mèo và 29 con chó, đồng thời giúp chúng tìm được ngôi nhà mới. Hỏi có bao nhiêu con chó và mèo được cô Hồng giúp đỡ trong năm?